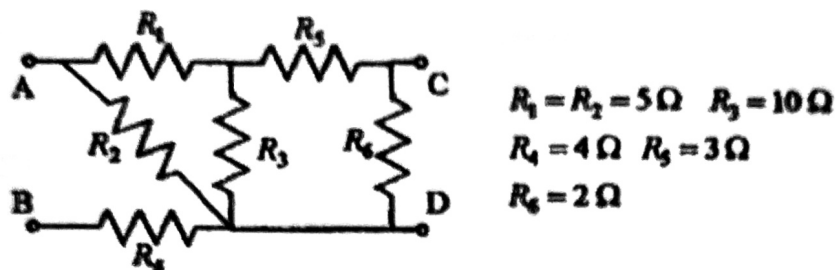



NOME

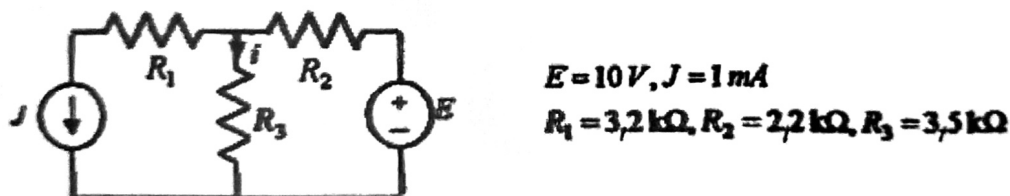
Calcolare la Req vista ai morsetti A-B e quella vista ai morsetti B-C



Calcolare la potenza erogata dal generatore J e la corrente attraverso R_1



Utilizzando il principio di sovrapposizione degli effetti, determinare la corrente i e la potenza assorbita da R_3



Calcolare l'equivalente Thévenin

