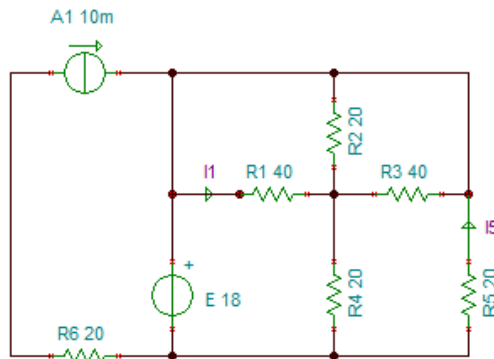


NOME
COGNOME

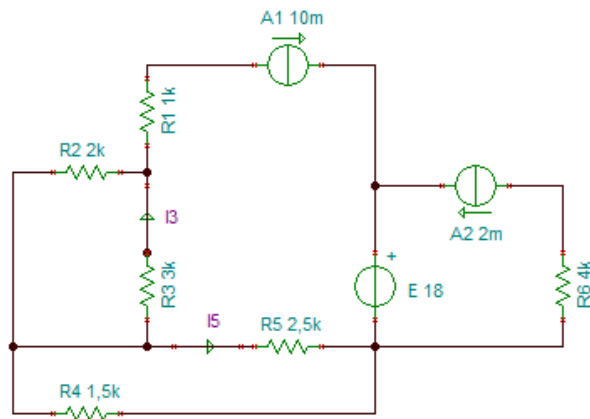
N =
C =

N° di lettere del proprio NOME
N° di lettere del proprio COGNOME

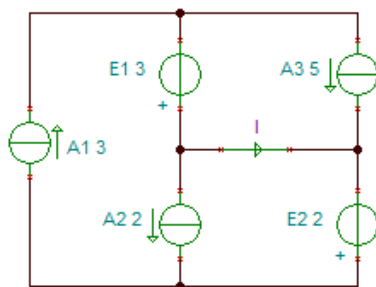
- 1) Determinare le correnti I_1 e I_5



- 2) Determinare le correnti I_3 e I_5



- 3) a) Determinare la corrente I
b) Determinare la potenza di ciascun generatore, specificando se sia EROGATA o ASSORBITA



- 4) Determinare la resistenza equivalente ai morsetti AB [Ri = 6 (N+C)]

