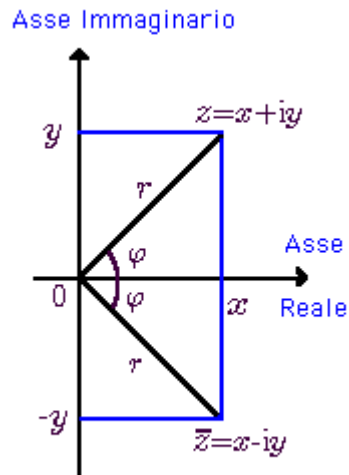


Tracciamento diagrammi di Nyquist

Prerequisiti – Due Amenità sui numeri complessi



$$z = x + iy = r(\cos \varphi + i \sin \varphi).$$

$$r = \sqrt{x^2 + y^2}$$

$$\varphi = \arctan \frac{y}{x}$$

Formula di Eulero:

$$z = r(\cos \varphi + i \sin \varphi) = re^{i\varphi}$$

Motivazione

Un'alternativa ai diagrammi di Bode per la rappresentazione della funzione di risposta armonica sono i cosiddetti **diagrammi polari** o di Nyquist. Essi sono di grande importanza per lo studio della stabilità dei sistemi in retroazione: su di essi si basa il fondamentale **criterio di stabilità di Nyquist**.

Sia la funzione di risposta armonica nella seguente forma fattorizzata:

$$G(j\omega) = K \frac{\prod_{u=1}^m (1 \pm j\omega\tau_{z_u})}{(j\omega)^h \prod_{j=h+1}^n (1 \pm j\omega\tau_{p_j})}$$

Spesso, quando il diagramma di Nyquist viene usato per l'analisi della stabilità, è sufficiente la conoscenza qualitativa dell'andamento del diagramma stesso.

Primi elementi sul tracciamento

Si noti che $G(j\omega): \mathbb{R} \rightarrow \mathbb{C}$ e che il diagramma viene tracciato sul piano complesso $G(j\omega)$ per $\omega \in (-\infty, +\infty)$.

Una importante proprietà ai fini del tracciamento è la seguente:

PROP. $G^*(j\omega) = G((j\omega)^*) = G(-j\omega)$

CONSEGUENZA: Nel tracciare il diagramma di Nyquist possiamo tracciarlo per $\omega \in (0, \infty)$ e poi ribaltarlo rispetto all'asse delle ascisse.

N.B. Una cosa importante da tenere in conto è che il diagramma di Nyquist forma una **curva chiusa** sul piano $G(j\omega)$. Gli asintoti si chiudono all'infinito (da 0. a 0₊ in senso orario). Tale curva chiusa è nota come **curva di Cauchy** e fa un **numero di giri** quanti sono necessari per raccordare la fase tra $G(j0.)$ e $G(j0_+)$, ovvero un numero di rotazioni di 180° in senso orario per quanti sono i poli nell'origine.

Procedura di Tracciamento

Per avere un andamento qualitativo del diagramma di Nyquist facciamo i seguenti 5 passi:

1) Analisi asintotica $\omega \in (0, \infty)$, ovvero calcolare

$$\begin{array}{ll} \left\{ \begin{array}{l} \lim_{\omega \rightarrow 0_+} |G(j\omega)| \\ \lim_{\omega \rightarrow 0_+} \angle G(j\omega) \end{array} \right\} & \left\{ \begin{array}{l} \lim_{\omega \rightarrow \infty} |G(j\omega)| \\ \lim_{\omega \rightarrow \infty} \angle G(j\omega) \end{array} \right\} \end{array} \quad \begin{array}{ll} \left\{ \begin{array}{l} \lim_{\omega \rightarrow 0_+} \operatorname{Re}[G(j\omega)] \\ \lim_{\omega \rightarrow 0_+} \operatorname{Im}[G(j\omega)] \end{array} \right\} & \left\{ \begin{array}{l} \lim_{\omega \rightarrow \infty} \operatorname{Re}[G(j\omega)] \\ \lim_{\omega \rightarrow \infty} \operatorname{Im}[G(j\omega)] \end{array} \right\}$$

2) Calcolare eventuali intersezioni con gli assi

3) Fare Diagramma di Bode delle fasi di $G(j\omega)$ per eliminare ambiguità

4) Proprietà $G^*(j\omega) = G(-j\omega)$

5) Eventuale chiusura ad infinito (fare tanti “mezzi giri” ovvero rotazioni di 180° in senso orario chiuse da 0. a 0₊ ad infinito quanti sono i poli nell'origine)

Combinando queste informazioni si ottiene un diagramma di Nyquist qualitativamente corretto.

Esercizio 1: L'integratore

$$G(s) = \frac{1}{s}$$

$$G(j\omega) = \frac{1}{j\omega} = -j \frac{1}{\omega}$$

$$\operatorname{Re}[G(j\omega)] = 0 \quad \forall \omega$$

Pertanto:

$$\lim_{\omega \rightarrow 0} |G(j\omega)| = \infty$$

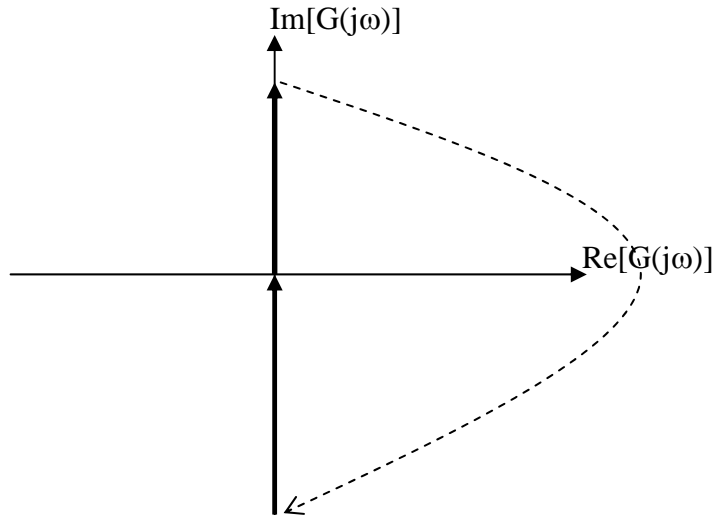
$$\lim_{\omega \rightarrow 0} \angle G(j\omega) = -\frac{\pi}{2}$$

$$\lim_{\omega \rightarrow 0} \operatorname{Im}[G(j\omega)] = -\infty$$

$$\lim_{\omega \rightarrow \infty} |G(j\omega)| = 0$$

$$\lim_{\omega \rightarrow \infty} \angle G(j\omega) = -\frac{\pi}{2}$$

$$\lim_{\omega \rightarrow 0} \operatorname{Im}[G(j\omega)] = 0^-$$



Esercizio 2: Polo stabile

$$G(s) = \frac{1}{s\tau + 1}$$

$$G(s) = \frac{1}{j\omega\tau + 1} = \frac{1}{j\omega\tau + 1} \cdot \frac{-j\omega\tau + 1}{-j\omega\tau + 1} = \frac{-j\omega\tau + 1}{\omega^2\tau^2 + 1} = \frac{1}{\omega^2\tau^2 + 1} - j \frac{\omega\tau}{\omega^2\tau^2 + 1}$$

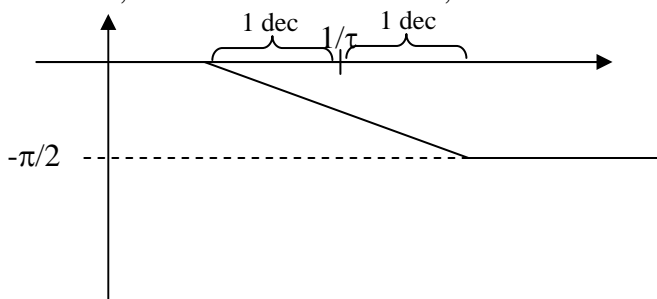
$$\lim_{\omega \rightarrow 0} |G(j\omega)| = 1$$

$$\lim_{\omega \rightarrow 0} \angle G(j\omega) = 0$$

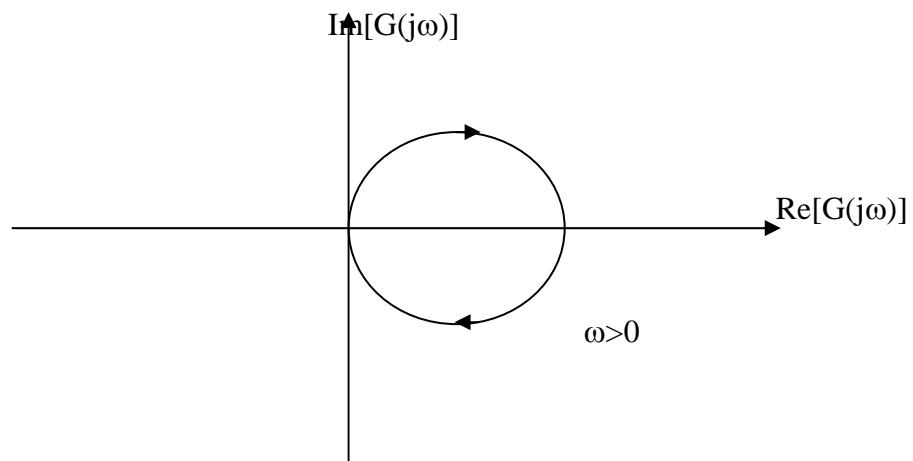
$$\lim_{\omega \rightarrow \infty} |G(j\omega)| = 0$$

$$\lim_{\omega \rightarrow \infty} \angle G(j\omega) = -\frac{\pi}{2}$$

Non abbiamo intersezione con l'asse, vediamo dove vanno i vari limiti. Ci rimane da capire cosa fa la fase, vediamo l'andamento, che è monotono



Quindi infine abbiamo:



Esercizio 3: Polo instabile

$$G(s) = \frac{K}{s\tau - 1} \text{ con } K > 0$$

$$G(j\omega) = -\frac{K}{1 - j\omega\tau} = -\frac{K}{j\omega\tau - 1 - j\omega\tau - 1} = K \frac{-j\omega\tau - 1}{\omega^2\tau^2 + 1} = -\frac{K}{\omega^2\tau^2 + 1} - j \frac{K\omega\tau}{\omega^2\tau^2 + 1}$$

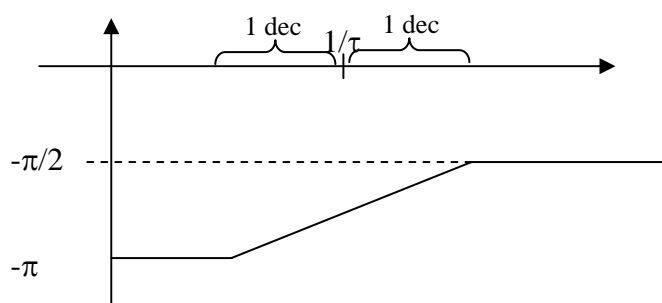
$$\lim_{\omega \rightarrow 0} |G(j\omega)| = K$$

$$\lim_{\omega \rightarrow 0} \angle G(j\omega) = -\pi$$

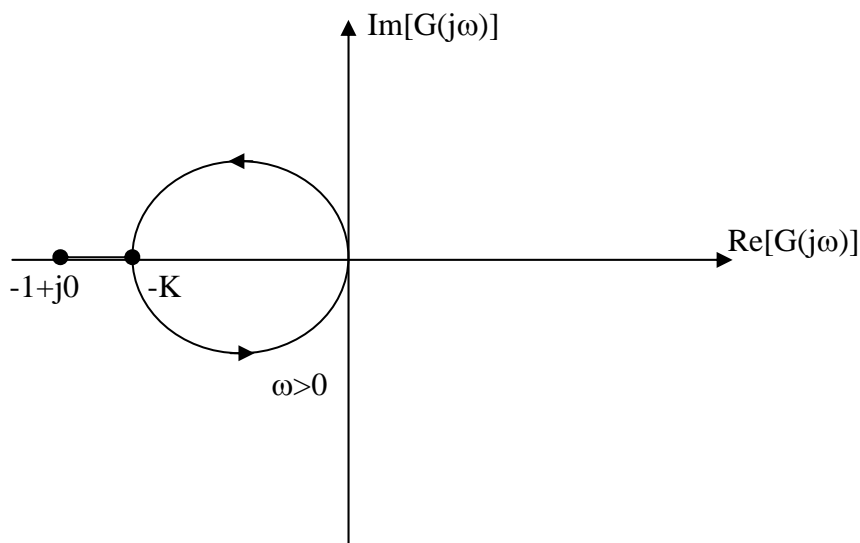
$$\lim_{\omega \rightarrow \infty} |G(j\omega)| = 0$$

$$\lim_{\omega \rightarrow \infty} \angle G(j\omega) = -\frac{\pi}{2}$$

Le considerazioni sulla monotonicità della fase sono le stesse:



Pertanto:



N.B. Si noti come per $K > 1$, il sistema ad anello chiuso è instabile !

Esercizio 4

$$G(s) = \frac{10}{(s+1)(s+2)}$$

$$G(j\omega) = \frac{10}{(j\omega+1)(j\omega+2)}$$

Fattorizziamo in parte reale e parte immaginaria:

$$G(j\omega) = \frac{10}{(j\omega+1)(j\omega+2)} \frac{(1-j\omega)(2-j\omega)}{(1-j\omega)(2-j\omega)} = \frac{10(2-\omega^2-3j\omega)}{(\omega^2+1)(\omega^2+4)} = \frac{10(2-\omega^2)}{(\omega^2+1)(\omega^2+4)} - \frac{10(3j\omega)}{(\omega^2+1)(\omega^2+4)}$$

$$\lim_{\omega \rightarrow 0} |G(j\omega)| = 5$$

$$\lim_{\omega \rightarrow 0} \angle G(j\omega) = 0$$

$$\lim_{\omega \rightarrow \infty} |G(j\omega)| = 0$$

$$\lim_{\omega \rightarrow \infty} \angle G(j\omega) = -\pi$$

Si noti come da questo risulta che essa avrà una intersezione con l'asse reale. Vediamo dove essa avviene:

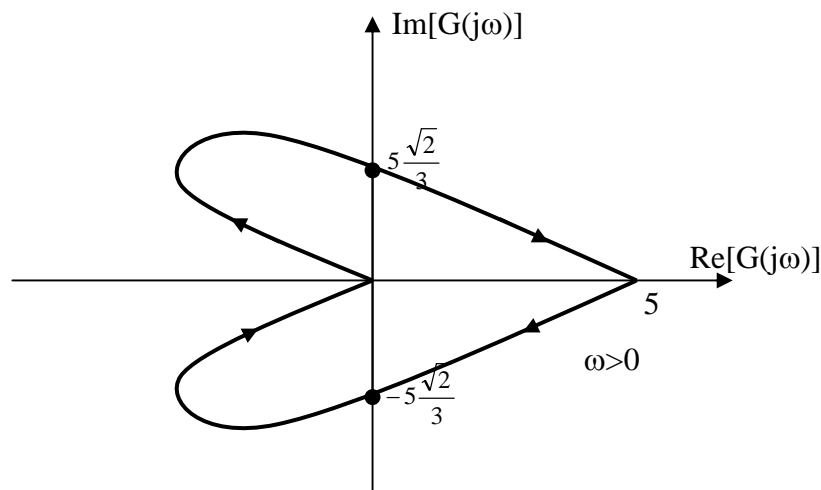
$$\operatorname{Re}[G(j\omega)] = 0$$

$$10(2-\omega^2) = 0 \Rightarrow \omega = \pm\sqrt{2}$$

Prendiamo $\omega = +\sqrt{2}$ visto che ci interessa $\omega > 0$, allora, vediamo che l'intesezione avviene per un valore dell'asse immaginario:

$$\operatorname{Im}[G(j\omega)] = -\frac{10(3\omega)}{(\omega^2+1)(\omega^2+4)} = -\frac{10(3\sqrt{2})}{(2+1)(2+4)} = -\frac{5(\sqrt{2})}{3}$$

Possiamo quindi tracciare, notando la monotonicità dei diagrammi di Bode:



Esercizio 5

$$G(s) = \frac{(s+1)}{s(s+2)}$$

$$G(j\omega) = \frac{(j\omega+1)}{j\omega(j\omega+2)} = \frac{(j\omega+1)}{j\omega(j\omega+2) - j(-j\omega+2)} = \frac{-j(j\omega+1)(-j\omega+2)}{\omega(\omega^2+4)} = \frac{-j\omega(j\omega+1)(-j\omega+2)}{(\omega^3+4\omega)} = \frac{(-j\omega^2-j2+\omega)}{(\omega^3+4\omega)}$$

e infine:

$$G(j\omega) = \frac{\omega}{\omega(\omega^2+4)} + j \frac{(-\omega^2-2)}{(\omega^3+4\omega)}$$

$$\lim_{\omega \rightarrow 0} |G(j\omega)| = \infty$$

$$\lim_{\omega \rightarrow 0} \angle G(j\omega) = -\frac{\pi}{2}$$

$$\lim_{\omega \rightarrow \infty} |G(j\omega)| = 0$$

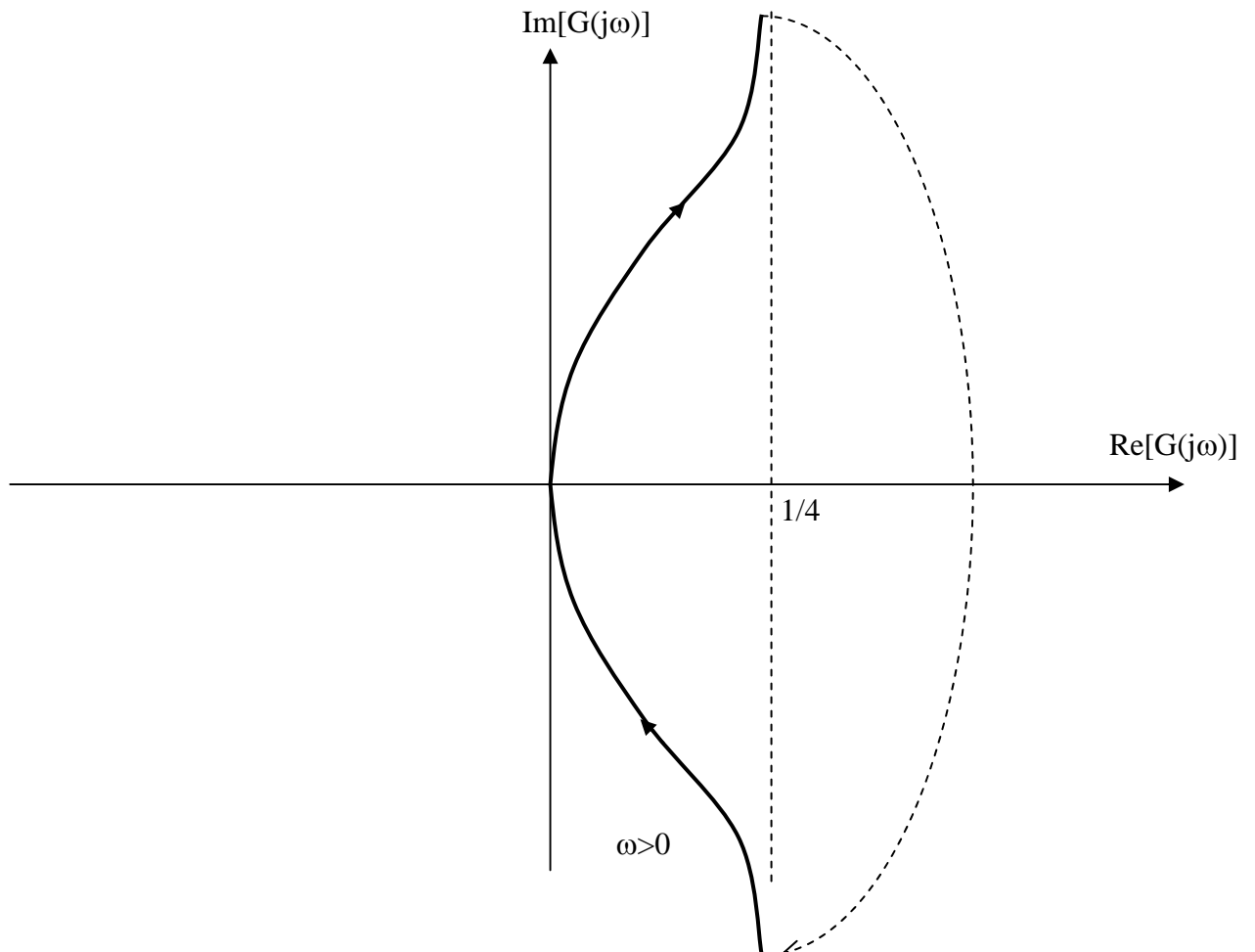
$$\lim_{\omega \rightarrow \infty} \angle G(j\omega) = -\frac{\pi}{2}$$

E' facile vedere come non ci siano intersezioni con gli assi, in quanto la parte reale è sempre positiva e quella immaginaria sempre negativa (per $\omega > 0$).

Si noti inoltre che

$$\lim_{\omega \rightarrow 0} \text{Re}[G(j\omega)] = \frac{1}{4}$$

Il diagramma sarà quindi:



Esercizio 6

$$G(s) = \frac{10}{s(s-1)}$$

Diventa

$$G(s) = \frac{10}{j\omega(j\omega-1)} = -\frac{10}{j\omega(1-j\omega)} = j\frac{10}{\omega(1-j\omega)} \frac{(1+j\omega)}{(1+j\omega)} = j\frac{10(1+j\omega)}{\omega(1+\omega^2)} = -\frac{10}{(1+\omega^2)} + j\frac{10}{\omega(1+\omega^2)}$$

$$\lim_{\omega \rightarrow 0} |G(j\omega)| = \infty$$

$$\lim_{\omega \rightarrow 0} \angle G(j\omega) = -\frac{3}{2}\pi$$

$$\lim_{\omega \rightarrow \infty} |G(j\omega)| = 0$$

$$\lim_{\omega \rightarrow \infty} \angle G(j\omega) = -\pi$$

$$\lim_{\omega \rightarrow 0} \operatorname{Re}[G(j\omega)] = -10$$

$$\lim_{\omega \rightarrow 0} \operatorname{Im}[G(j\omega)] = +\infty$$

$$\lim_{\omega \rightarrow \infty} \operatorname{Re}[G(j\omega)] = 0_-$$

$$\lim_{\omega \rightarrow \infty} \operatorname{Im}[G(j\omega)] = 0_+$$

\

